

ÚTERÝ 4. 5.

Matematika

Online výuka

Pomůcky na stole: **Matematika, mazací tabulka, fix, hadřík, penál s tužkou a ořezanými pastelkami, číselná osa do 20**

Opakování učiva:

- Ukazování kartiček s příklady – žáci píšou výsledky do zeleného sešitu:

$$12 - 6 \quad 9 + 8 \quad 11 - 4 \quad 13 - 5$$

- Číselné řady – doplň chybějící čísla (viz níže) – stačí ústně

Učivo: Zobrazování čísel na číselné ose - nákupy

- Slovní úlohy – ukazuj si čísla na číselné ose, napiš je na mazací tabulku a porovnej $<$, $>$, $=$ (viz níže)
- Nákupy (viz níže) – mazací tabulka, napiš příklad a odpověz
- M ps. str. 37 / 7 – vyřeš, do posledního řádku si nakresli vlastní obrázek, napiš jeho cenu a zaplať mincemi
- Hra na opakování učiva (+ a – do 20) - kvíz
<https://wordwall.net/cs/resource/5908297/matematika/matematika-pexeso-do-20>

DOMÁCÍ PŘÍPRAVA

Český jazyk a literatura

Procvičování učiva:

- SL str. 54 / 1 – vyhledej slabiky mě (žlutě)
- SL. str. 54 / 3 a 4
- PS str. 2
- ZČ str. 49
- Zopakuj si říkanku Úsměv s obr. osnovou (*viz níže*)


POŠLETE, PROSÍM VÁS, PÍSANKU STR. 1 A 2. Děkuji.

Číselné řady

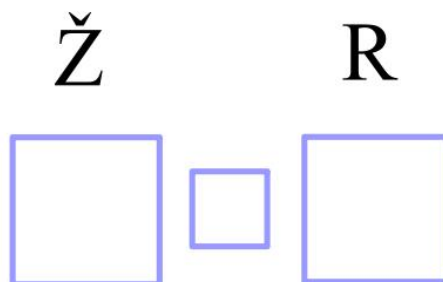

16	17		
----	----	--	--

17	16		
----	----	--	--

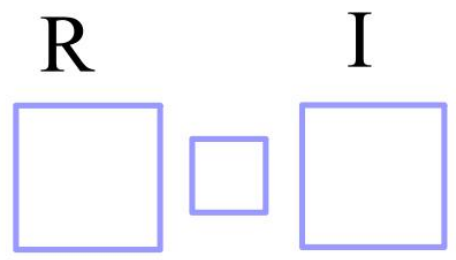

Slovní úlohy

1  ?A., nakresli na osu a napiš $>$, $<$, $=$.



Žaneta dostala 18 jahod, Roman dostal 14 jahod.




Roman dostal 14 jahod a Ilona dostala 14 jahod.




Iva dostala 9 jahod a Ilona dostala 14 jahod.





Nákupy



2 , spočítej a napiš.

Maminka má 20 korun a koupí 1 .
Kolik korun mamince zůstalo?



Říkanka ÚSMĚV

Mě mě

