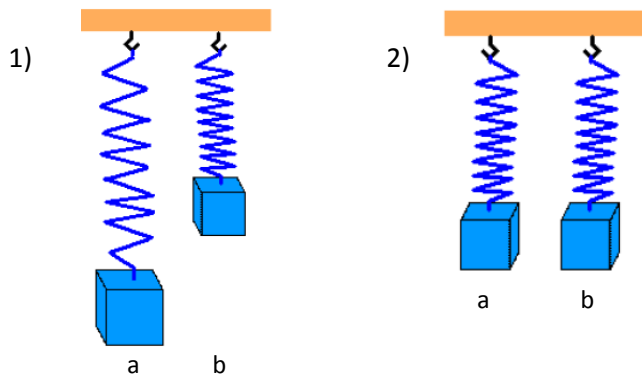


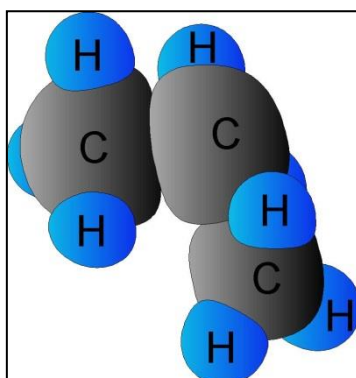

OPAKOVÁNÍ - podívejte se na webu:**Měření síly (12:45):**<https://www.youtube.com/watch?v=vqJwziz40IM>**FV Síla - měření siloměrem (stupnice) (6:30):**<https://www.youtube.com/watch?v=0HN1qCyE3mI>**Fyzika - Měření síly (1:29):**<https://www.youtube.com/watch?v=HqkgHQ40woQ>**DÚ1:** Na obrázcích jsou na stejných pružinách zavěšena tělesa. Které z dvou těles má větší hmotnost v případě 1) a v případě 2).**DÚ2:** (Odpovědi hledejte v PL9)a) Vyberte: Na obrázku je model **atomu** nebo **molekuly**?

b) Podle textu v PL9 nebo tabulky prvků v PL9 určete název prvku na obrázku.

c) **DOPLŇTE:** Látky složené ze stejných molekul se nazývají _____.d) **DOPLŇTE:** Nejjednodušší prvek se nazývá _____ a má značku.

e) Jak vznikají molekuly?

f) Kolik různých druhů atomů známe?

Model molekuly
propanu

Možná znáte propan-butanové láhve pro vaření, topení:

